

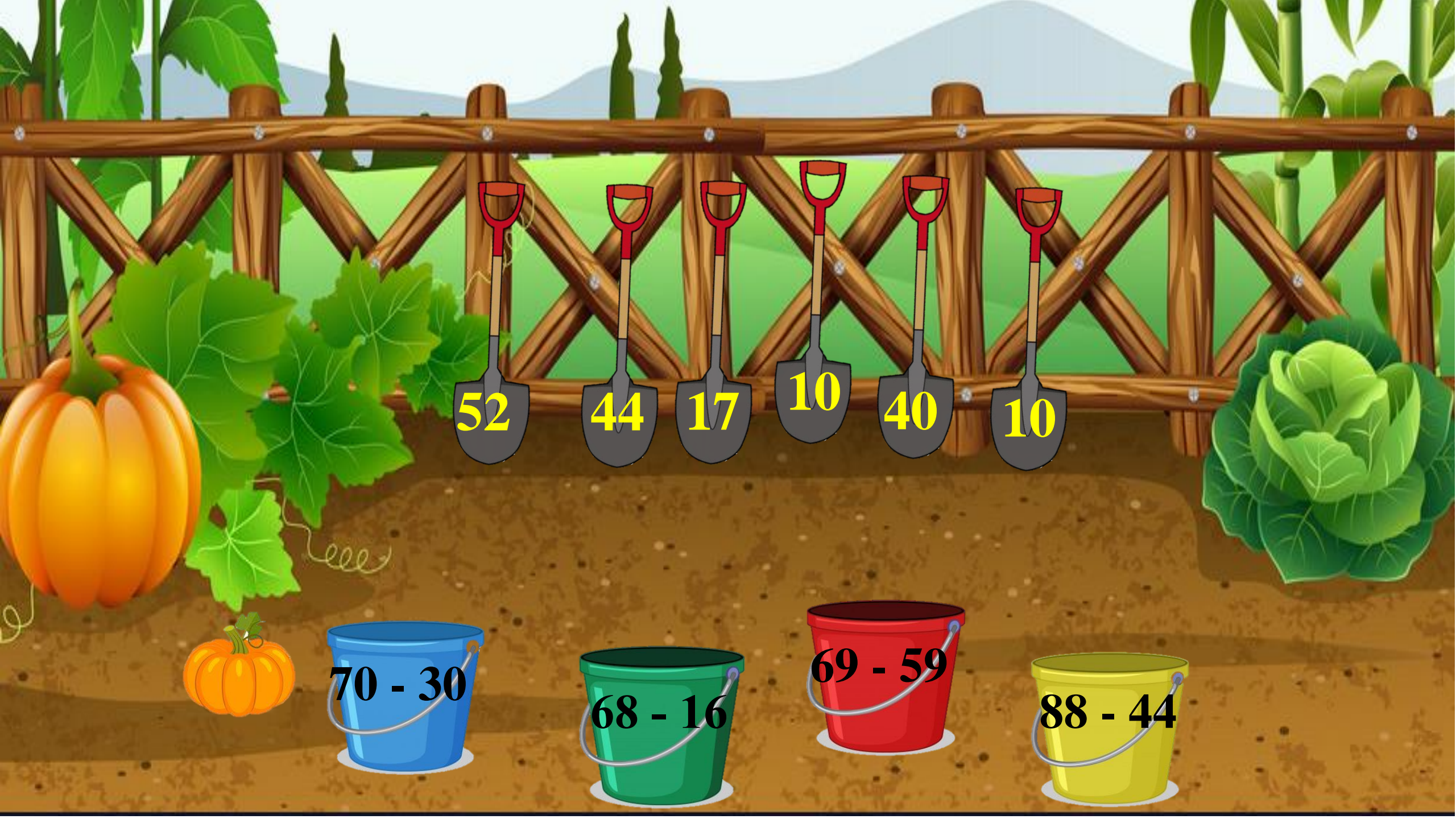
Khởi động



TÌM XẺNG CHO THÙNG



PLAY



52



44



17



10



40



10



70 - 30



68 - 16



69 - 59



88 - 44



TOÁN

LUYỆN TẬP

Trang 60/SGK

1 Tính nhẩm (theo mẫu)

$$60 - 20 = ?$$

$$6 \text{ chục} - 2 \text{ chục} = 4 \text{ chục}$$
$$60 - 20 = 40$$

$$60 - 20 = ?$$

$$6 \text{ chục} - 2 \text{ chục} = 4 \text{ chục}$$

$$60 - 20 = 40$$

a)

$$70 - 50 = 20$$

$$90 - 70 = 20$$

$$40 - 10 = 30$$

b)

$$80 - 10 = 70$$

$$60 - 50 = 10$$

$$90 - 20 = 70$$

c)

$$40 - 30 = 10$$

$$70 - 30 = 40$$

$$70 - 40 = 30$$

2 Đặt tính rồi tính.

$$92 - 72$$

$$\begin{array}{r} 92 \\ - 72 \\ \hline 20 \end{array}$$

$$65 - 25$$

$$\begin{array}{r} 65 \\ - 25 \\ \hline 40 \end{array}$$

$$86 - 64$$


$$\begin{array}{r} 86 \\ - 64 \\ \hline 22 \end{array}$$

$$77 - 53$$

$$\begin{array}{r} 77 \\ - 53 \\ \hline 24 \end{array}$$

3 Số?

a)



b)

$$\begin{array}{r} 59 \\ - 24 \\ \hline 35 \end{array}$$

$$\begin{array}{r} 97 \\ - 51 \\ \hline 46 \end{array}$$

$$\begin{array}{r} 68 \\ - 23 \\ \hline 45 \end{array}$$

$$\begin{array}{r} 85 \\ - 64 \\ \hline 21 \end{array}$$




KÁŨC

Ức

4

Một đồng gạch có 86 viên. Bạn Rô-bốt đã lấy đi 50 viên gạch để xây tường. Hỏi đồng gạch đó còn lại bao nhiêu viên?

86	-	50	=	36
----	---	----	---	----



VĂN DỤNG



TRÒ CHƠI HẸM TÃI





LUẬT CHƠI

Có tổng cộng 4 quả táo trên cây, mỗi quả tương ứng với một câu hỏi, trả lời đúng các em sẽ giúp bạn nhỏ hái một quả táo.



TRÒ CHƠI HẸM TÀO

Hoàn thành





1

$$82 - 62 = ?$$

Đáp án: 20





2

$$64 - 21 = ?$$

Đáp án: 43





3

$$56 - 35 = ?$$

Đáp án: 21





4

$$45 - 13 = ?$$

Đáp án: 32



Cảm ơn các bạn đã
giúp mình nhé!





CHÚC CÁC EM

HỌC TỐT!

